

NOME: \_\_\_\_\_

2º ANO \_\_\_\_\_



**Prefeitura  
de  
Rolândia**

**SECRETARIA MUNICIPAL DE EDUCAÇÃO**



**28º ROTEIRO 2021 - ATIVIDADES COMPLEMENTARES DE ESTUDO- COVID 19**

**ESCOLA MUNICIPAL MARIA DO CARMO CAMPOS**

**PROFESSORAS: SILVIA- 2º ANO A – ISABEL 2º ANO B –**

**RITA 2º ANO C - DANIELA 2º ANO**

**COMPONENTES CURRICULARES: LÍNGUA PORTUGUESA, MATEMÁTICA, HISTÓRIA, CIÊNCIAS, GEOGRAFIA, ENSINO RELIGIOSO ARTE, EDUCAÇÃO FÍSICA E LÍNGUA INGLESA . PERÍODO DE REALIZAÇÃO: 13 a 24 DE SETEMBRO DE 2021**

**Senhores pais e responsáveis**

Seu filho deverá realizar todas as atividades no próprio roteiro. Ele terá o período de 13 a 17 de setembro e 20 A 24 de Setembro para concluir essas atividades. Cuidem-se e cuidem de sua família.

Em breve tudo estará bem.

Um abraço, **Professoras**

Você deve ouvir/ver o áudio/ vídeo explicativo que está disponível em nosso grupo antes de realizar as atividades

**O QUE VOCÊ VAI ESTUDAR:**

➤ **Língua Portuguesa:**

**Prática de linguagem:** Leitura/escuta (compartilhada e autônoma) Análise linguística/ semiótica (Alfabetização)

**Objetos de Conhecimento:** Decodificação/Fluência de leitura. Estratégia de leitura. Compreensão em leitura. Construção do sistema alfabético e da ortografia. Forma de composição do texto; estrutura textual. (Composição e estilo do gênero).

**Conteúdo:** Decodificação e compreensão de palavras. Leitura e compreensão de textos do campo da vida cotidiana (Texto Convite e Poema). Reconhecimento de informações explícitas em textos poéticos. Segmentação de palavras. Identificação do tema/ assunto do texto. Ortografia e fixação n intermediário e n antes de p/b; Consciência fonológica: Formação de palavras, frases e texto; unidade fonológica ou segmentos sonoros. Relação grafema x fonema;

➤ **Matemática:**

**Unidade Temática:** Números e álgebra. Grandezas e medidas.

**Objetos de Conhecimento:** Sistema de numeração decimal: Números naturais (adição e subtração). Sistema de numeração decimal Números naturais. Antecessor e sucessor, leitura . Medidas de Tempo.

**Conteúdo:** Valor posicional dos Números naturais: unidades, dezenas e centena. Antecessor e sucessor, e sequência numérica, leitura e escrita numérica. Algoritmos para resolver operações de adição e subtração. Situações problemas. Medida de Tempo e calendário (dia, mês e ano).

➤ **História:**

---

---

---

---

---

---

---

---

**Unidade Temática:** As formas de registrar as experiências da comunidade.

**Objetos de conhecimento:** O tempo como medida.

**Conteúdo:** Tempo Cronológico.

### Geografia:

**Unidade Temática:** O sujeito e seu lugar no mundo.

**Objetos de conhecimento:** Riscos e cuidados nos meios de transportes e comunicação.

**Conteúdo:** Meios de transporte. Regras no trânsito.

### ✓ Ciências:

**Unidade Temática:** Matéria e Energia, Terra e universo

**Objetos de conhecimento:** Propriedades e usos dos materiais. O sol como fonte de luz e calor.

**Conteúdo:** Materiais que compõe os objetos da vida cotidiana. Efeitos da radiação solar em diferentes superfícies.

### Ensino Religioso:

**Unidade Temática:** Manifestações Religiosas

**Objetos de conhecimento:** Linguagens sagradas.

**Conteúdo:** Textos sagrados orais e escritos sobre mitos de criação.

## **PARA QUE VAMOS ESTUDAR ESSES CONTEÚDOS?**

- Treinar a leitura e compreensão do texto.
- Ler e compreender as ideias centrais de texto gênero Convite e poema.
- Identificar no alfabeto as letras para escrita de sílabas e palavras.
- Retomar palavras escritas com .as ortografia e fixação n intermediário e n antes de p/b;
- Completar e escrever palavras, frases e textos corretamente com as sílabas estudadas.
- Identificar a sequência numérica.
- Identificar e relacionar a quantidade de cada algarismo nas ordens da centena, dezenas e unidades formando o numeral..
- Relacionar quantidades colocando os numerais posicionando o antecessor e sucessor.
- Resolver operações de adição e subtração, bem como situações problemas envolvendo as mesmas.
- Reconhecer Tempo Cronológico.
- Reconhecer Condições dos espaços de vivência.
- Identificar Riscos e cuidados nos meios de transportes e comunicação.
- Compreender Materiais que compõe os objetos da vida cotidiana. Efeitos da radiação solar em diferentes superfícies.
  
- Identificar a diversidade de diferentes Textos sagrados orais e escritos sobre mitos de criação..

## ➤ **COMO VAMOS ESTUDAR OS CONTEÚDOS?**

- Organize seus estudos.
- Coloque nome em seu roteiro e resolva as atividades no mesmo.

## **COMO VAMOS REGISTRAR O QUE APRENDEMOS**

- Realizando as atividades escritas e desenhadas no Roteiro.
- Realizando leitura e interpretação dos textos.
- Realizando atividades envolvendo cálculo, adição, interpretação de dados fornecidos em tabelas.
- Observação de imagens e figuras.

ROLÂNDIA, 13 DE SETEMBRO DE 2021.

PROFESSORA: \_\_\_\_\_

ALUNO (A): \_\_\_\_\_

## GEOGRAFIA

### MEIOS DE TRANSPORTE.

EXISTEM DIVERSOS MEIOS DE TRANSPORTES. ALGUNS DELES CIRCULAM PELAS RUAS, RODOVIAS, ENQUANTO OUTROS CIRCULAM EM TRILHOS, RIOS, NO MAR E ATÉ NO AR. OS MEIOS DE TRANSPORTES SÃO MUITO IMPORTANTES, POIS, TRANSPORTAM PESSOAS E MERCADORIAS DE UM LUGAR PARA O OUTRO. ABAIXO VEJA ALGUNS MEIOS DE TRANSPORTES EXISTENTES.



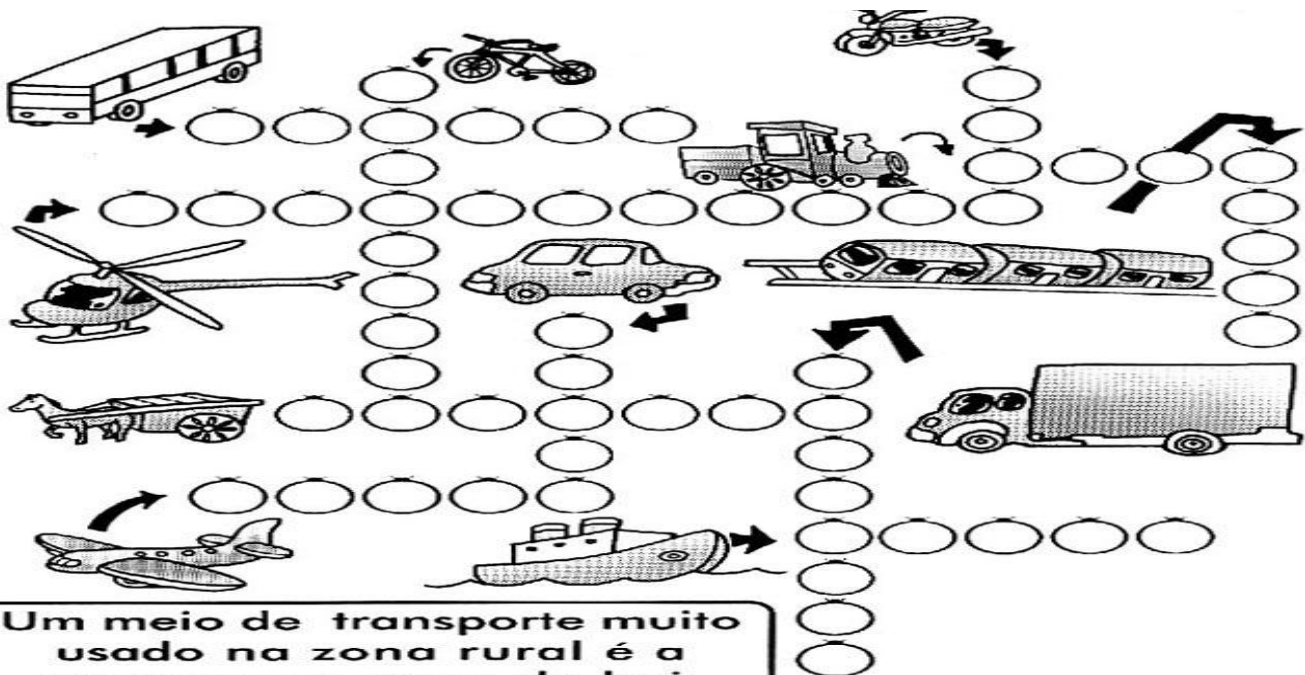
1) VOCÊ UTILIZA ALGUM DESSES MEIOS DE TRANSPORTE? QUAL?

\_\_\_\_\_

2) DOS MEIOS DE TRANSPORTE ACIMA, TEM ALGUM QUE VOCÊ GOSTARIA DE CONHECER? QUAL DELES?

\_\_\_\_\_

3) ESCREVA O NOME DOS MEIOS DE TRANSPORTE ABAIXO.



# HISTÓRIA

## TEMPO CRONOLÓGICO

### LEITURA;

NO PASSADO, AS PESSOAS ENCONTRAVAM MANEIRAS DE MARCAR A PASSAGEM DO TEMPO, ATRAVÉS DA POSIÇÃO DO SOL, APARÊNCIAS DA LUA, A MUDANÇA DA PAISAGEM EM ÉPOCAS DE CALOR OU FRIO, ETC. MAIS ADIANTE DIVERSOS POVOS INVENTARAM A AMPULHETA E O RELÓGIO DE SOL.

### AMPULHETA



### RELÓGIO DE SOL



AO LONGO DA HISTÓRIA, DIVERSOS POVOS CRIARAM CALENDÁRIOS DE ACORDO COM AS OBSERVAÇÕES QUE FAZIAM DA NATUREZA E COM OS ACONTECIMENTOS IMPORTANTES PARA ELES.

O CALENDÁRIO CRISTÃO POR EXEMPLO, SE BASEIA A PARTIR DO NASCIMENTO DE JESUS CRISTO. ELE ESTÁ ORGANIZADO EM DIAS, SEMANAS E MESES.

1- OBSERVE ABAIXO O CALENDÁRIO DO ANO DE 2.021:



1- DE ACORDO CO O CALENDÁRIO, RESPONDA:

a) QUANTOS MESES TEM UM ANO? \_\_\_\_\_

b) QUANTOS DIAS TEM UMA SEMANA? \_\_\_\_\_

c) UM MÊS TEM \_\_\_\_\_ OU \_\_\_\_\_ DIAS.

d) O MÊS DE FEVEREIRO TEVE \_\_\_\_\_ DIAS.

e) PINTE DE VERMELHO NO CALENDÁRIO A DATA DE SEU ANIVERSÁRIO.

f) AS LETRA **D**, **S**, **T**, **Q**, **Q**, **S**, **S**, SE REFEREM AOS DIAS DA SEMANA. ESCREVA OS NOMES DELES:

\_\_\_\_\_

\_\_\_\_\_

# MATEMÁTICA

## SEQUÊNCIA NUMÉRICA/ ANTECESSOR E SUCESSOR

1- COMPLETE COM OS NÚMEROS FALTANTES:

	2	3				7			
				15				19	
		23							30
					36				
41							48		
			54			57			
	62							69	
				75					80
81		83							
			94			97			100

2- COLOQUE OS VIZINHOS.





**ESCOLA MUNICIPAL MARIA DO CARMO CAMPOS.**  
**ROLÂNDIA, 14 DE AGOSTO DE 2021.**  
**PROFESSORA:** \_\_\_\_\_  
**ALUNO (A):** \_\_\_\_\_

## **AULAS ESPECÍFICAS**

### **ARTE**

**PROFESSORAS:** MARIA DE LOURDES E LUCIANA  
**COMPONENTE CURRICULAR:** ARTE  
**PERÍODO DE REALIZAÇÃO:** 13 Á 24 DE SEMTEMBRO  
**ALUNO(A):**..... **TURMA: 2º ANO**

#### **O QUE ESTUDAR?**

**UNIDADE TEMÁTICA:** ARTES VISUAIS

**OBJETO DE CONHECIMENTO:** CONTEXTOS E PRÁTICAS. MATERIALIDADES. ARTISTAS NACIONAIS. FORMAS GEOMÉTRICAS.

**CONTEÚDOS:** TÉCNICAS DE DESENHOS, PINTURA E COLAGEM. ELEMENTOS DA LINGUAGEM VISUAL: IDENTIFICAÇÃO E DISTINÇÃO DESTES NAS IMAGENS DIVERSAS E NA NATUREZA.

#### **PARA QUE ESTUDAR?**

REALIZAR COMPOSIÇÕES ARTÍSTICAS, TENDO COMO REFERÊNCIA, NÃO COMO MODELO, OBRAS DE ARTE OU OBJETOS ARTÍSTICOS DE ALGUNS DIFERENTES PERÍODOS, PARA COMPREENDER O CONCEITO DE BIDIMENSIONAL. RECONHECER E EXPLORAR OS ELEMENTOS DA LINGUAGEM VISUAL (PONTO, LINHA, FORMA, COR, PRESENTES NA NATUREZA, NAS OBRAS DE ARTE E IMAGENS DO COTIDIANO, PARA ELABORAR COMPOSIÇÕES ARTÍSTICAS NO BIDIMENSIONAL,

#### **COMO ESTUDAR?**

ORGANIZANDO OS ESTUDOS, ASSISTINDO OS VÍDEOS OU ÁUDIO EXPLICATIVOS DA PROFESSORA DE ARTE E FAZENDO AS ATIVIDADES.

#### **COMO REGISTRAR?**

FAZENDO A ATIVIDADE PROPOSTA UTILIZANDO OS MATERIAIS ESCOLARES, COMO LÁPIS, PAPEIS E COLA, TESOURA, COLA.

### **28º ROTEIRO DE ARTE**

ESTA SEMANA VAMOS CONHECER O ARTISTA GUSTAVO ROSA.


GUSTAVO MACHADO ROSA FOI UM ARTISTA, PINTOR, DESENHISTA, GRAVADOR E ARTISTA PLÁSTICO. NASCEU EM 20 DE DEZEMBRO DE 1946, NA CIDADE DE SÃO PAULO, FALECEU EM 12 DE NOVEMBRO DE 2013. INICIOU SUA EXPERIÊNCIA COM A PINTURA NA INFÂNCIA.

CONHEÇA ALGUMAS OBRAS DO ARTISTA:



**ATIVIDADE DA SEMANA 13 À 17 DE SETEMBRO:** ESTA É A OBRA “GALO AMARELO VERMELHO E AZUL NA GRAMA”, DO ARTISTA GUSTAVO ROSA:

AGORA É A SUA VEZ! COLORIR AS PEÇAS ABAIXO QUE FORMAM O GALO USANDO AS CORES DE SUA PREFERÊNCIA, DEPOIS RECORTE CADA PEÇA, E **COLE NO VERSO DO ROTEIRO**, MONTANDO O GALO CORRETAMENTE. DEPOIS, COMPLETE SUA OBRA DESENHANDO O AMBIENTE ONDE ELE POSSA ESTAR.



# EDUCAÇÃO FÍSICA

**PROFESSORAS: ANDRÉIA / EMANUELLE**

**COMPONENTE CURRICULAR: EDUCAÇÃO FÍSICA (28º).**

**PERÍODO DE REALIZAÇÃO: 13 A 20 DE SETEMBRO DE 2021.**

**ALUNO: \_\_\_\_\_ TURMA 2º ANO**

OUÇA O ÁUDIO E ASSISTA AO VÍDEO NO GRUPO PARA ENTENDER MELHOR COMO REALIZAR A ATIVIDADE.


## ATIVIDADE

### O QUE VAMOS APRENDER: JOGOS ESPORTIVOS DE MARCA (ATLETISMO)

#### PARA QUE VAMOS ESTUDAR ESSES CONTEÚDOS:

EXPERIMENTAR A PRÁTICA DE JOGOS ESPORTIVOS DE MARCA, POR MEIO DE ATIVIDADES E JOGOS DIVERSIFICADOS, ADEQUADOS À REALIDADE ESCOLAR E QUE EVIDENCIEM A MODALIDADE ESPORTIVA ENSINADA.

#### COMO VAMOS ESTUDAR ESSES CONTEÚDOS? ATRAVÉS DA PRÁTICA DA MODALIDADE DO ATLETISMO CORRIDA.



ATLETISMO é UM CONJUNTO DE PROVAS INDIVIDUAIS OU COLETIVAS.

HÁ REGISTRO DE QUE OS HOMENS DAS CAVERNAS, UTILIZAVAM AS HABILIDADES MOTORAS CORRER, LANÇAR E SALTAR, EM SUA ROTINA FUGINDO DOS PREDADORES E EM BUSCA DE SEU ALIMENTO.

ESSES MOVIMENTOS, FORAM ORGANIZADOS POR VOLTA DE 776 A.C, DANDO ORIGEM AO ESPORTE ATLETISMO, O QUAL SE OFICIALIZOU NA GRÉCIA, NA CIDADE DE OLÍMPIA, COM UMA PROVA DE CORRIDA.

AS PROVAS NO ATLETISMO DIVIDEM-SE EM DOIS TIPOS, AS DE CAMPO E AS DE PISTA.

PROVAS DE PISTA: SÃO AS CORRIDAS. E ELAS SÃO: VELOCIDADE (100, 200 E 400 METROS RASOS), MEIO FUNDO (800 E 1500 METROS), FUNDO (5000, 10000 METROS E MARATONA), COM OBSTÁCULOS, COM BARREIRAS, REVEZAMENTO.

### ATIVIDADE- CORRIDA

**MATERIAS:** 4 BRINQUEDOS (DE PREFERÊNCIA QUE NÃO SAIAM DO LUGAR) OU SAPATOS. CONVIDE ALGUM DE SEUS FAMILIARES PARA PARTICIPAR.

ESCOLHA UM CORREDOR (ESPAÇO) DA SUA CASA PARA ESSA ATIVIDADE E POSICIONE OS OBJETOS AO LONGO DELE DA SEGUINTE FORMA:



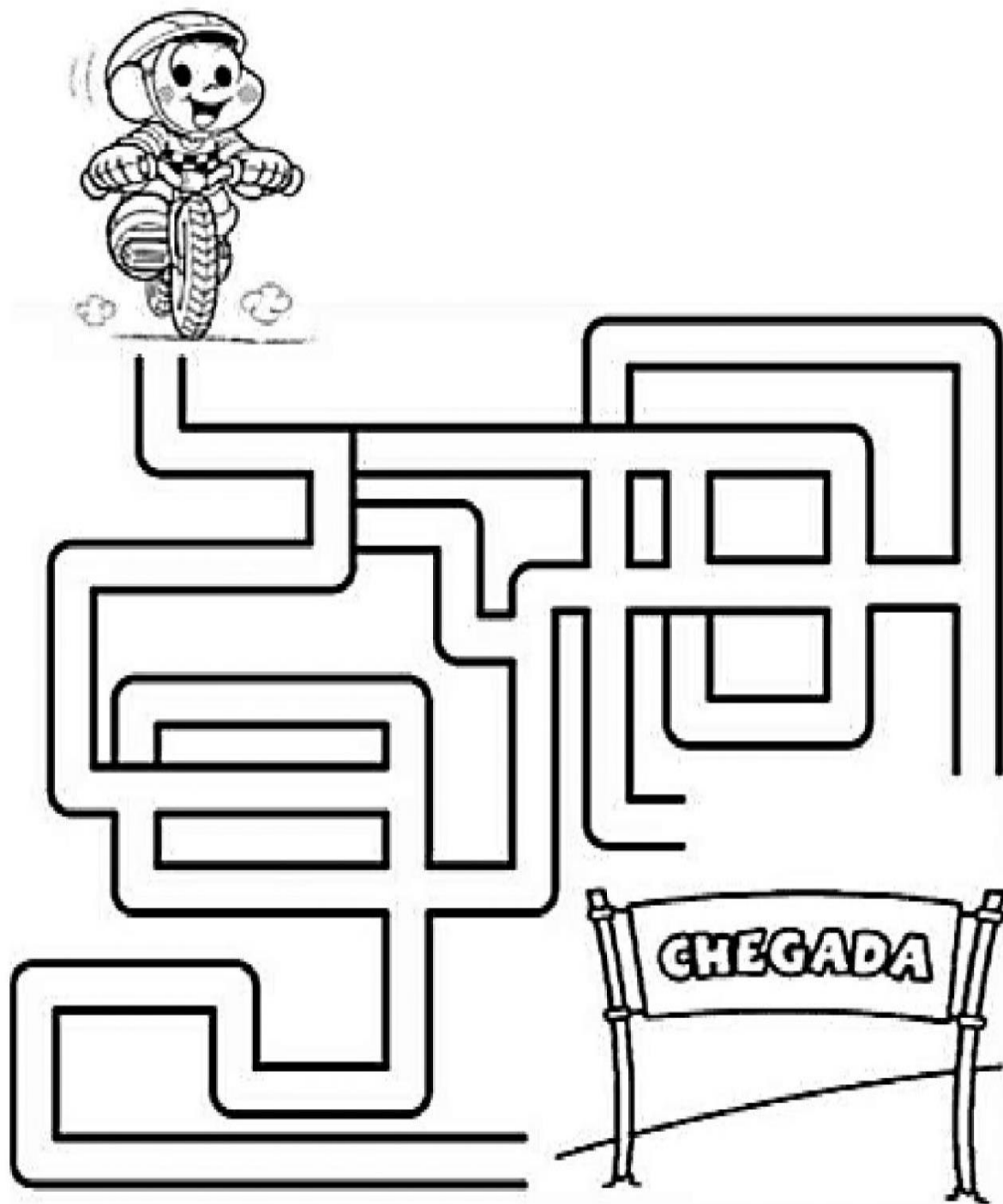
AO SINAL DE SEU FAMILIAR, SAIA DO PONTO DE PARTIDA E VÁ RECOLHENDO OS OBJETOS DURANTE O TRAJETO ATÉ A LINHA DE CHEGADA



**VARIAÇÕES:** PEÇA PARA QUE MARQUEM O SEU TEMPO E TENDE FAZER AINDA MAIS RÁPIDO, CONVIDE ALGUÉM PARA DISPUTAR ESSA CORRIDA COM VOCÊ.

**DE QUE FORMA VAMOS REGISTRAR O QUE APRENDEMOS?**

**1. AJUDE O CEBOLINHA A ENCONTRAR A LINHA DE CHEGADA.**



# LÍNGUA INGLESA

PROFESSORAS: ROSANA E MARIA THEREZA

ALUNO(A): \_\_\_\_\_ TURMA: 2º ANO \_\_\_\_\_

COMPONENTE CURRICULAR: LÍNGUA INGLESA

PERÍODO DE REALIZAÇÃO: 13 À 17 DE SETEMBRO DE 2021.

## 1. VÍDEO/ÁUDIO DO(A) PROFESSOR(A)

OLÁ QUERIDO(A) ALUNO(A)!

OUÇA O ÁUDIO/VÍDEO DO(A) PROFESSOR(A) PARA ENTENDER COMO REALIZAR A ATIVIDADE.

## 2. O QUE VOCÊ VAI ESTUDAR?

**OBJETOS DE CONHECIMENTO** – AQUISIÇÃO DO REPERTÓRIO LEXICAL INICIAL.

**UNIDADE TEMÁTICA / PRÁTICA DE LINGUAGEM** – INTERAÇÃO DISCURSIVA.

**CONTEÚDO** – REPERTÓRIO LEXICAL RELACIONADO À DIÁLOGO DE CUMPRIMENTO ( GREETINGS ).

## 3. PARA QUE VAMOS ESTUDAR ESSES CONTEÚDOS?

**OBJETIVOS DE APRENDIZAGEM**

- CONHECER E COMPREENDER COM A MEDIAÇÃO DO(A) PROFESSOR(A) AS DETERMINADAS ESTRUTURAS QUE RELACIONAM À ALGUNS CUMPRIMENTOS NA LÍNGUA INGLESA.

## 4. COMO VAMOS ESTUDAR OS CONTEÚDOS?

-ASSISTA AOS VÍDEOS DE SUGESTÃO:

<https://www.youtube.com/watch?v=DGvhHCn72E0>

[https://www.youtube.com/watch?v=THWdG7oc\\_zM](https://www.youtube.com/watch?v=THWdG7oc_zM)

-REPITA O DIÁLOGO JUNTO COM A PROFESSORA E REALIZE A ATIVIDADE PROPOSTA.

## 5. COMO VAMOS REGISTRAR O QUE APRENDEMOS?

-ESCREVA SEU NOME, A TURMA E A DATA NOS ESPAÇOS QUE SE PEDE COM CAPRICHOS.

-FAZER A ATIVIDADE DE LER E REESCREVER O DIÁLOGO SOBRE CUMPRIMENTOS NOS BALÕES EM INGLÊS.

## 6. PARA REALIZAR ESSA ATIVIDADE VOCÊ PRECISARÁ DE ALGUNS MATERIAIS:


-ESTOJO ESCOLAR CONTENDO LÁPIS, LÁPIS DE COR E BORRACHA.

### • READ THE DIALOGUE : ( LEIA O DIÁLOGO)

HELLO! WHAT IS YOUR NAME?	OLÁ! QUAL É O SEU NOME?
MY NAME IS ANTONIO	MEU NOME É ANTÔNIO
HOW ARE YOU ANTONIO?	COMO VOCÊ ESTÁ ANTÔNIO?
FINE, THANKS, AND YOU?	BEM, OBRIGADA, E VOCÊ?

EXERCISE

➤ REESCREVA O DIÁLOGO NOS BALÕES ABAIXO EM INGLÊS E PINTE AS IMAGENS:



ESCOLA MUNICIPAL MARIA DO CARMO CAMPOS.


ROLÂNDIA, 15 DE SETEMBRO DE 2021.

PROFESSORA: \_\_\_\_\_

ALUNO (A): \_\_\_\_\_

## LÍNGUA PORTUGUESA

- **GÊNERO TEXTUAL – CONVITE –LEITURA E COMPREENSÃO/ PRODUÇÃO DE CONVITE.**



**VENHA COMEMORAR MEU  
7º ANIVERSÁRIO**

**DATA: 02/09/2.021**

**LOCAL: RECANTO D A ALEGRIA**

**HORÁRIO: 16 H**

**RUA: DAS FLORES, 124. CONJUNTO  
PARAÍSO**

**TE ESPERO COM UM ABRAÇO.**

**CAMILA**

A) QUEM ESTÁ FAZENDO ANIVERSÁRIO?

\_\_\_\_\_

B) QUANTOS ANOS A PESSOA FARÁ?

\_\_\_\_\_

C) QUAL SERÁ O LOCAL DA FESTA?

\_\_\_\_\_

D) QUE HORAS COMEÇARÁ A FESTA?

\_\_\_\_\_

E) RECANTO DA ALEGRIA SERIA:

( ) UMA CHÁCARA

( ) UM SALÃO

( ) UMA CASA

F) EM QUAL ENDEREÇO ACONTECERÁ A FESTA?

\_\_\_\_\_






# MATEMÁTICA

## UNIDADE, DEZENA E CENTENA

1- CONTE AS CENTENAS, DEZENAS, UNIDADES E ESCREVA O NÚMERO QUE SE FORMA:



CENTENA=100



DEZENA=10



UNIDADE=1



	=	<input type="text"/>
	=	<input type="text"/>
	=	<input type="text"/>
	=	<input type="text"/>
	=	<input type="text"/>
	=	<input type="text"/>
	=	<input type="text"/>
	=	<input type="text"/>
	=	<input type="text"/>
	=	<input type="text"/>


ESCOLA MUNICIPAL MARIA DO CARMO CAMPOS.  
ROLÂNDIA, 16 DE SETEMBRO DE 2021.

PROFESSORA: \_\_\_\_\_

ALUNO (A): \_\_\_\_\_

LÍNGUA PORTUGUESA

GÊNERO TEXTUAL: CONVITE - LEITURA E COMPREENSÃO.



**CONVITE**

QUERIDO ENZO

VENHA PARTICIPAR  
DO NOSSO ARRAIAL

DIA: 22/ 06/ 2.021

HORA: 20:00 H

LOCAL: CHÁCARA ESPERANÇA

ESPERO VOCÊ

ÂNGELA

1) ESSE CONVITE É PARA UMA FESTA:

( ) DE ANIVERSÁRIO                      ( ) UMA FESTA SE CASAMENTO                      ( ) UMA FESTA JUNINA

2) O MÊS EM QUE ACONTECER ESSA FESTA É:

( ) JANEIRO                                      ( ) JULHO                                      ( ) JUNHO

3) O HORÁRIO DA FESTA SERÁ:

( ) DE MANHÃ                                      ( ) NOITE                                      ( ) A TARDE

4) A FESTA ACONTECERÁ:

( ) NA ZONA RURAL                                      ( ) ZONA URBANA

5) QUEM ENVIOU O CONVITE FOI:


( ) ANGÉLICA                                      ( ) ANGELINA                                      ( ) ÂNGELA

6) QUEM RECEBERÁ O CONVITE SERÁ:

( ) ANTÔNIO                                      ( ) HENRIQUE                                      ( ) ENZO

## CIÊNCIAS

### ✓ EFEITOS DA RADIAÇÃO SOLAR EM DIFERENTES SUPERFÍCIES.



O SOL É A PRINCIPAL ESTRELA DO UNIVERSO. ELE EMITE LUZ QUE PODE SER TRANSFORMADA EM CALOR SE TIVER CONTATO COM ALGUNS MATERIAIS E SUPERFÍCIES COMO: A ÁGUA, O SOLO, A AREIA, AS SUPERFÍCIES ESCURAS E CLARAS, METÁLICAS, E ETC.

AS SUPERFÍCIES ESCURAS ABSORVEM MELHOR O CALOR DO SOL, GERANDO MAIS CALOR. EXEMPLO: SE VOCÊ USAR UMA CAMISETA ESCURA, VOCÊ VAI PASSAR MAIS CALOR, DEVIDO A MAIOR ABSORVIÇÃO DO CALOR FORNECIDA PELOS RAIOS SOLARES. SE VOCÊ USAR UMA CAMISETA DE COR CLARA, VOCÊ IRÁ PASSAR MENOS CALOR, PORQUE AS CORES CLARAS ABSORVEM MENOS A LUZ DO SOL, ELAS RECEBEM A LUZ, MAS DEVOLVE DE ONDE VEIO PRA QUALQUER OUTRA DIREÇÃO.

EM DIAS ENSOLARADOS NA PRAIA, AS CALÇADAS FICAM MAIS QUENTES QUE A AREIA, E A AREIA FICA MAIS QUENTE QUE AS ÁGUAS DO MAR.

A AREIA SE AQUECE MAIS RÁPIDO E ESFRIA MAIS RÁPIDO. E AS ÁGUAS DO MAR DEMORAM MAIS PARA SE AQUECER, E DEPOIS QUANDO O SOL DESAPARECE, DEMORA MAIS PARA ESFRIAR.

1-A LUZ DO SOL PODE SER TRANSFORMADA EM \_\_\_\_\_.

2- AS SUPERFÍCIES \_\_\_\_\_ ABSORVEM MAIS O CALOR DO SOL.

3- AS SUPERFÍCIES CLARAS ABSORVEM \_\_\_\_\_ CALOR.

4- AS ÁGUAS DO MAR DEMORA MAIS QUE A \_\_\_\_\_ E A \_\_\_\_\_ PARA SE AQUECER.

5- EM DIAS \_\_\_\_\_ AS CALÇADAS FICAM MAIS QUENTES QUE A AREIA DA PRAIA.

6- ENCONTRE NO CAÇA PALAVRAS, AS PALAVRAS FALTOSAS DAS QUESTÕES ACIMA:

D	M	Ç	R	T	C	A	L	O	R	E	E	Z	P	I	Q	
E	S	C	U	R	A	S	V	K	L	M	N	H	G	F	D	X
A	Ç	P	G	J	U	T	D	Y	E	A	M	E	N	O	S	
C	A	L	Ç	A	D	A	F	R	T	Y	U	I	S	F	G	T
A	R	E	I	A	C	D	F	X	A	W	Q	V	G	H	J	Y
E	N	S	O	L	A	R	A	D	O	S	S	D	F	G	H	J

ESCOLA MUNICIPAL MARIA DO CARMO CAMPOS  
ROLÂNDIA, 17 DE SETEMBRO DE 2021  
PROFESSORA: \_\_\_\_\_  
ALUNO (A): \_\_\_\_\_

## LÍNGUA PORTUGUESA

### ORTOGRAFIA - N INTERMEDIÁRIO

#### **O burrinho medroso**

Tico era um burrinho muito medroso, mas dizia que não tinha medo de nada.

Um dia, seu amigo Teteco colocou um lençol branco na cabeça e ficou atrás do barranco esperando Tico passar.

Quando Tico passou:

\_ Buuuuuuuuuuu!

Tico levou um susto tão grande que saiu em disparada!



#### Interpretando o texto

1) Responda:

a) Qual é o título do texto?

---

b) Quem é o personagem principal do texto?

---

c) Quem deu um susto em Tico?

---

2) LEITURA:

AN

EN

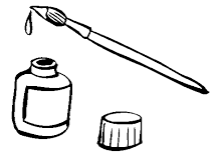
IN

ON

UN

PINTE NO TEXTO AS PALAVRAS QUE POSSUEM AS SÍLABAS QUE VOCÊ ACABOU DE LER E COPIE NA LINHA ABAIXO.

3) ESCREVA O NOME DAS FIGURAS ABAIXO.



4) ACHA PALAVRAS

INJEÇÃO

TINTA  
REDONDO

GANCHO

BENGALA  
MUNDO

NUNCA  
FAZENDA



5) ESCOLHA 3 PALAVRAS E SEPRE AS SÍLABAS.

---

6) ESCOLHA 2 PALAVRAS E FORME FRASES.

---



---



---



---



---



---



---



---



# MATEMÁTICA

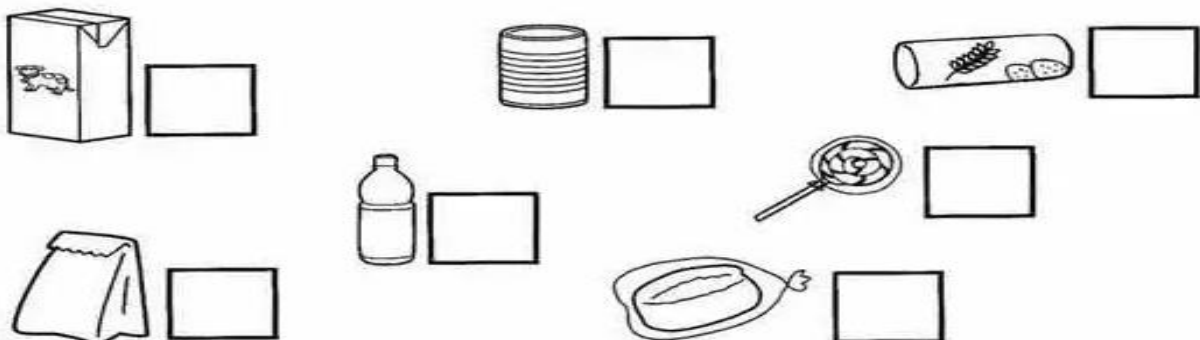
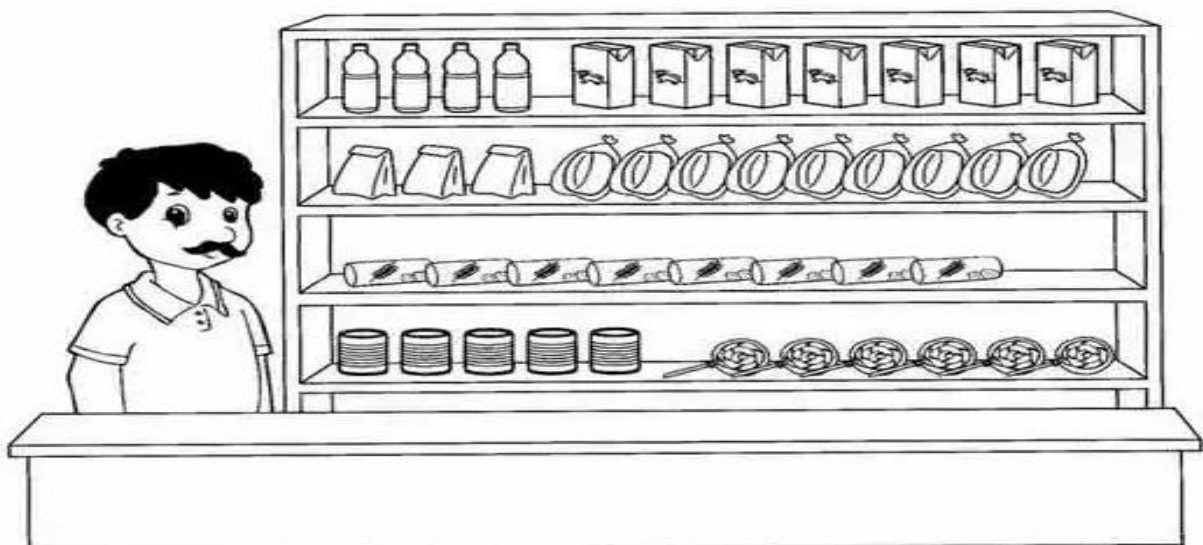
## OPERAÇÕES E SITUAÇÕES PROBLEMAS ENVOLVENDO A ADIÇÃO E SUBTRAÇÃO.

1- RESOLVA AS OPERAÇÕES. PRESTE ATENÇÃO AO SINAL. PRIMEIRO ADICIONAMOS AS UNIDADES DEPOIS AS DEZENAS.

$44 + 23 =$	$31 + 7 =$	$65 - 32 =$	$76 - 21 =$																																
<table border="1"><tr><td>D</td><td>U</td></tr><tr><td></td><td></td></tr><tr><td></td><td></td></tr><tr><td></td><td></td></tr></table>	D	U							<table border="1"><tr><td>D</td><td>U</td></tr><tr><td></td><td></td></tr><tr><td></td><td></td></tr><tr><td></td><td></td></tr></table>	D	U							<table border="1"><tr><td>D</td><td>U</td></tr><tr><td></td><td></td></tr><tr><td></td><td></td></tr><tr><td></td><td></td></tr></table>	D	U							<table border="1"><tr><td>D</td><td>U</td></tr><tr><td></td><td></td></tr><tr><td></td><td></td></tr><tr><td></td><td></td></tr></table>	D	U						
D	U																																		
D	U																																		
D	U																																		
D	U																																		

2- RESOLVA O PROBLEMINHA.

O QUE O SENHOR PEDRO ESTÁ VENDENDO NA MERCEARIA? CONTE OS PRODUTOS E, DEPOIS, ESCREVA OS NUMERAIS:



## ENSINO RELIGIOSO

DIFERENTES RITOS E SUAS CARACTERÍSTICAS RITUALÍSTICAS. "RITOS DE PASSAGEM"



RITOS DE PASSAGEM SÃO CELEBRAÇÕES QUE MARCAM MUDANÇAS DE UMA PESSOA NA SUA COMUNIDADE. OS RITOS DE PASSAGEM PODEM TER CARÁTER SOCIAL, COMUNITÁRIO OU RELIGIOSO. RITOS DE PASSAGEM SÃO AQUELES QUE TAMBÉM MARCAM MOMENTOS IMPORTANTES NA VIDA DAS PESSOAS.

O CASAMENTO, POR SUA VEZ, É UM RITO DE PASSAGEM MUITO ESPECIAL VIVENCIADO NAS DIVERSAS RELIGIÕES.

ATIVIDADE:

1- RESPONDA:

A) VOCÊ JÁ FOI EM DE ALGUM CASAMENTO RELIGIOSO?

---

---

---

---

B) CITE DOIS ELEMENTOS IMPORTANTES PRESENTES NA CERIMÔNIA DE UM CASAMENTO RELIGIOSO.

---

---

---

---

ESCOLA MUNICIPAL MARIA DO CARMO CAMPOS.

ROLÂNDIA, 20 DE SETEMBRO DE 2021.

PROFESSORA: \_\_\_\_\_

ALUNO (A): \_\_\_\_\_

## GEOGRAFIA

### REGRAS DE TRÂNSITO

**TRÂNSITO** É O ESPAÇO ONDE ACONTECE O MOVIMENTO DE PESSOAS, VEÍCULOS E ANIMAIS. PODE SER TANTO EM RUAS, QUANTO EM ESTRADA. O TRÂNSITO É UM ESPAÇO COLETIVO, PORTANTO, TODOS POSSUEM DIREITOS E DEVERES. ASSIM COMO NA FAMÍLIA E NA ESCOLA, PARA UM BOM FUNCIONAMENTO DO TRÂNSITO, FORAM CRIADAS REGRAS QUE PRECISAM SER SEGUIDAS POR TODOS. ASSIM FICA FÁCIL EVITAR ACIDENTES, PRESERVAR NOSSA VIDA E A VIDA DE OUTRAS PESSOAS.

PARA ORGANIZAR O TRÂNSITO, HÁ OS SINAIS DE TRÂNSITO OU SEMÁFOROS, AS FAIXAS DE PEDESTRES E AS PLACAS DE SINALIZAÇÃO, E OS GUARDAS DE TRÂNSITO.

**O SEMÁFORO PARA PEDESTRES TEM DUAS CORES: O VERMELHO** INDICANDO QUE NÃO DEVEMOS ATRAVESSAR A RUA. **O VERDE** INDICANDO QUE A PASSAGEM ESTÁ LIVRE.


**O SEMÁFORO PARA OS VEÍCULOS POSSUI TRÊS CORES: O VERMELHO** INDICANDO PARE. **O AMARELO** INDICANDO ATENÇÃO E **O VERDE** QUE INDICA SIGA.

AS FAIXAS DE PEDESTRES SÃO LISTAS BRANCAS PINTADAS NO CHÃO, PARA QUE AS PESSOAS POSSAM ATRAVESSAR A RUA.

**OS GUARDAS DE TRÂNSITO** ORGANIZAM E ORIENTAM O TRÂNSITO NAS CIDADES E **OS POLICIAIS RODOVIÁRIOS**, NAS ESTRADAS. JÁ **AS PLACAS DE SINALIZAÇÃO** SERVEM DE ORIENTAÇÃO PARA MOTORISTAS E PEDESTRES.

AGORA É COM VOCÊ.

- 1) OBSERVE AS ATITUDES DOS PEDESTRES E PINTE SOMENTE A QUE ESTIVER CORRETA.



2) AGORA PINTE OS SEMÁFOROS E SEUS SIGNIFICADOS DE ACORDO COM A LEGENDA.

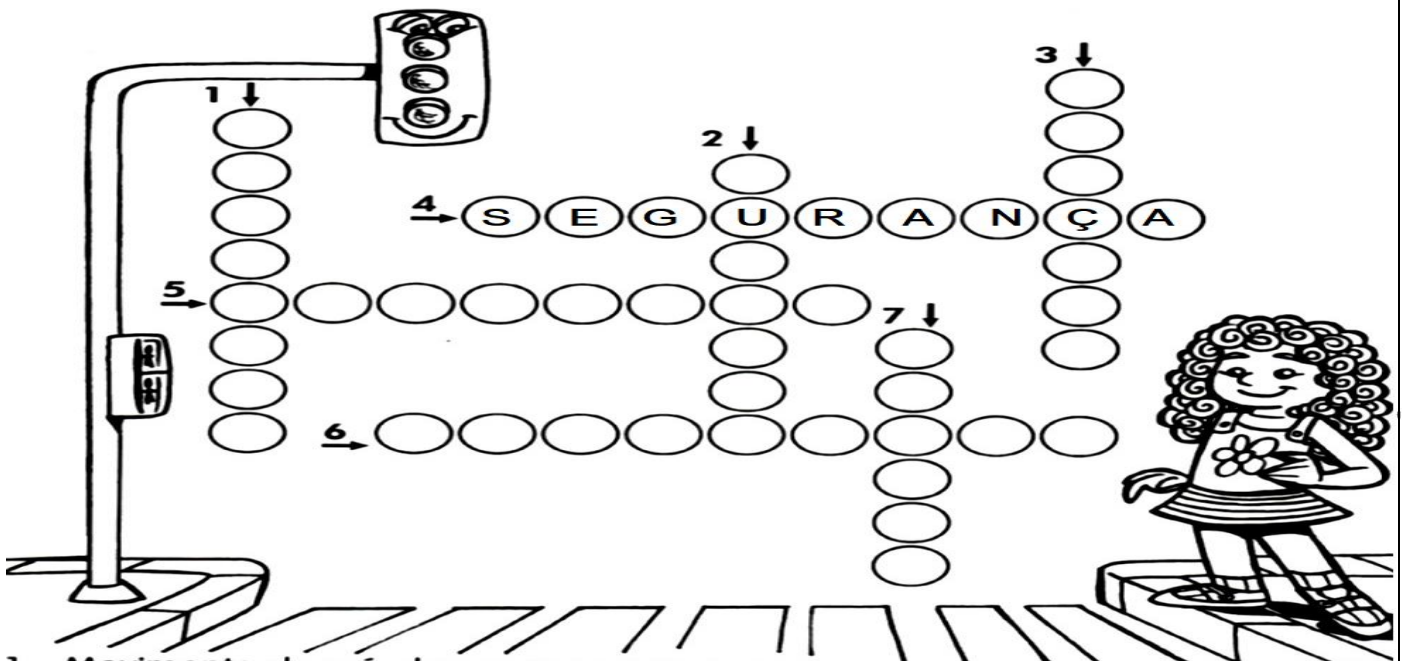


1) LIGUE CADA PLACA AO SEU SIGNIFICADO.



PARADA OBRIGATÓRIA
CICLISTAS
PROIBIDO TRÂNSITO DE BICICLETAS
ÁREA ESCOLAR
PROIBIDO ESTACIONAR
AEROPORTO
CUIDADO ANIMAIS

3) COMPLETE A CRUZADINHA DE ACORDO COM O QUE VOCÊ APRENDEU.



- 1- Movimento de veículos e pessoas nas ruas.
- 2- Orientam os pedestres e motoristas.
- 3- Local em que os pedestres devem andar.
- 4- As faixas de **SEGURANÇA** ou de pedestres são listras pintadas no chão para passagem de pedestres.
- 5- Sinal luminoso de trânsito.
- 6- Pessoas que andam a pé.
- 7- Sinal sonoro usado nos carros de polícia, bombeiro e ambulância.

# HISTÓRIA

## TEMPO CRONOLÓGICO

### O TEMPO É ALGO MUITO IMPORTANTE EM NOSSAS VIDAS.

NÓS DIVIDIMOS O TEMPO EM SEGUNDOS, MINUTOS, HORAS, DIAS, SEMANAS, MESES, ANOS, ETC. O TEMPO QUE PODEMOS MARCAR E CONTAR É CHAMADO DE TEMPO CRONOLÓGICO.

O RELÓGIO É UM INSTRUMENTO QUE MEDE A PASSAGEM DAS HORAS DE UM DIA, QUE TEM 24 HORAS. CONSULTAMOS O RELÓGIO VÁRIAS VEZES AO DIA, TEMOS HORA PARA TUDO: “HORA DE ACORDAR”, “HORA DE IR À ESCOLA” “DE ALMOÇAR”, “DE BRINCAR”, E ASSIM POR DIANTE...



O CALENDÁRIO TAMBÉM É UM MODO DE CONTAR E DIVIDIR O TEMPO. USAMOS PARA MARCAR UM ACONTECIMENTO IMPORTANTE, E AJUDA A LEMBRAR DOS NOSSOS COMPROMISSOS AO LONGO DA SEMANA OU DO ANO. O CALENDÁRIO É DIVIDIDO EM DIAS, MESES E ANO:

UMA SEMANA TEM SETE DIAS: DOMINGO, SEGUNDA-FEIRA, TERÇA –FEIRA, QUARTA-FEIRA, QUINTA-FEIRA, SEXTA-FEIRA E SÁBADO.

UM MÊS PODE TER: 28, 29, 30 OU 31 DIAS.

OS DOZE MESES DO ANO SÃO: JANEIRO, FEVEREIRO, MARÇO. ABRIL, MAIO, JUNHO, JULHO, AGOSTO, SETEMBRO, OUTUBRO, NOVEMBRO E DEZEMBRO.

## CALENDÁRIO 2022

JANEIRO	FEVEREIRO	MARÇO	ABRIL																																																																																																																																																																																						
<table border="1"><thead><tr><th>D</th><th>S</th><th>T</th><th>Q</th><th>Q</th><th>S</th><th>S</th></tr></thead><tbody><tr><td></td><td></td><td></td><td></td><td></td><td>1</td><td></td></tr><tr><td>2</td><td>3</td><td>4</td><td>5</td><td>6</td><td>7</td><td>8</td></tr><tr><td>9</td><td>10</td><td>11</td><td>12</td><td>13</td><td>14</td><td>15</td></tr><tr><td>16</td><td>17</td><td>18</td><td>19</td><td>20</td><td>21</td><td>22</td></tr><tr><td>23</td><td>24</td><td>25</td><td>26</td><td>27</td><td>28</td><td>29</td></tr><tr><td>30</td><td>31</td><td></td><td></td><td></td><td></td><td></td></tr></tbody></table> <p>01 - Confraternização Universal 02. Carnaval 03. Quarta-feira de Cinzas 17. Dia da Mulher 25. Dia da Juventude</p>	D	S	T	Q	Q	S	S						1		2	3	4	5	6	7	8	9	10	11	12	13	14	15	16	17	18	19	20	21	22	23	24	25	26	27	28	29	30	31						<table border="1"><thead><tr><th>D</th><th>S</th><th>T</th><th>Q</th><th>Q</th><th>S</th><th>S</th></tr></thead><tbody><tr><td></td><td></td><td></td><td>1</td><td>2</td><td>3</td><td>4</td></tr><tr><td>5</td><td>6</td><td>7</td><td>8</td><td>9</td><td>10</td><td>11</td></tr><tr><td>12</td><td>13</td><td>14</td><td>15</td><td>16</td><td>17</td><td>18</td></tr><tr><td>19</td><td>20</td><td>21</td><td>22</td><td>23</td><td>24</td><td>25</td></tr><tr><td>26</td><td>27</td><td>28</td><td>29</td><td>30</td><td></td><td></td></tr></tbody></table> <p>01. Carnaval 08. Dia da Mulher 16. Dia da Juventude 23. Dia da Juventude</p>	D	S	T	Q	Q	S	S				1	2	3	4	5	6	7	8	9	10	11	12	13	14	15	16	17	18	19	20	21	22	23	24	25	26	27	28	29	30			<table border="1"><thead><tr><th>D</th><th>S</th><th>T</th><th>Q</th><th>Q</th><th>S</th><th>S</th></tr></thead><tbody><tr><td></td><td></td><td></td><td>1</td><td>2</td><td>3</td><td>4</td></tr><tr><td>5</td><td>6</td><td>7</td><td>8</td><td>9</td><td>10</td><td>11</td></tr><tr><td>12</td><td>13</td><td>14</td><td>15</td><td>16</td><td>17</td><td>18</td></tr><tr><td>19</td><td>20</td><td>21</td><td>22</td><td>23</td><td>24</td><td>25</td></tr><tr><td>26</td><td>27</td><td>28</td><td>29</td><td>30</td><td>31</td><td></td></tr></tbody></table> <p>01. Carnaval 02. Quarta-feira de Cinzas 10. Dia da Mulher 18. Dia da Juventude 25. Dia da Juventude</p>	D	S	T	Q	Q	S	S				1	2	3	4	5	6	7	8	9	10	11	12	13	14	15	16	17	18	19	20	21	22	23	24	25	26	27	28	29	30	31		<table border="1"><thead><tr><th>D</th><th>S</th><th>T</th><th>Q</th><th>Q</th><th>S</th><th>S</th></tr></thead><tbody><tr><td></td><td></td><td></td><td></td><td></td><td>1</td><td>2</td></tr><tr><td>3</td><td>4</td><td>5</td><td>6</td><td>7</td><td>8</td><td>9</td></tr><tr><td>10</td><td>11</td><td>12</td><td>13</td><td>14</td><td>15</td><td>16</td></tr><tr><td>17</td><td>18</td><td>19</td><td>20</td><td>21</td><td>22</td><td>23</td></tr><tr><td>24</td><td>25</td><td>26</td><td>27</td><td>28</td><td>29</td><td>30</td></tr></tbody></table> <p>15. Paixão de Cristo 17. Páscoa 21. Tiradentes 01. Dia da Mulher 02. Dia da Juventude 16. Dia da Juventude 23. Dia da Juventude 30. Dia da Juventude</p>	D	S	T	Q	Q	S	S						1	2	3	4	5	6	7	8	9	10	11	12	13	14	15	16	17	18	19	20	21	22	23	24	25	26	27	28	29	30							
D	S	T	Q	Q	S	S																																																																																																																																																																																			
					1																																																																																																																																																																																				
2	3	4	5	6	7	8																																																																																																																																																																																			
9	10	11	12	13	14	15																																																																																																																																																																																			
16	17	18	19	20	21	22																																																																																																																																																																																			
23	24	25	26	27	28	29																																																																																																																																																																																			
30	31																																																																																																																																																																																								
D	S	T	Q	Q	S	S																																																																																																																																																																																			
			1	2	3	4																																																																																																																																																																																			
5	6	7	8	9	10	11																																																																																																																																																																																			
12	13	14	15	16	17	18																																																																																																																																																																																			
19	20	21	22	23	24	25																																																																																																																																																																																			
26	27	28	29	30																																																																																																																																																																																					
D	S	T	Q	Q	S	S																																																																																																																																																																																			
			1	2	3	4																																																																																																																																																																																			
5	6	7	8	9	10	11																																																																																																																																																																																			
12	13	14	15	16	17	18																																																																																																																																																																																			
19	20	21	22	23	24	25																																																																																																																																																																																			
26	27	28	29	30	31																																																																																																																																																																																				
D	S	T	Q	Q	S	S																																																																																																																																																																																			
					1	2																																																																																																																																																																																			
3	4	5	6	7	8	9																																																																																																																																																																																			
10	11	12	13	14	15	16																																																																																																																																																																																			
17	18	19	20	21	22	23																																																																																																																																																																																			
24	25	26	27	28	29	30																																																																																																																																																																																			
MAIO	JUNHO	JULHO	AGOSTO																																																																																																																																																																																						
<table border="1"><thead><tr><th>D</th><th>S</th><th>T</th><th>Q</th><th>Q</th><th>S</th><th>S</th></tr></thead><tbody><tr><td>1</td><td>2</td><td>3</td><td>4</td><td>5</td><td>6</td><td>7</td></tr><tr><td>8</td><td>9</td><td>10</td><td>11</td><td>12</td><td>13</td><td>14</td></tr><tr><td>15</td><td>16</td><td>17</td><td>18</td><td>19</td><td>20</td><td>21</td></tr><tr><td>22</td><td>23</td><td>24</td><td>25</td><td>26</td><td>27</td><td>28</td></tr><tr><td>29</td><td>30</td><td>31</td><td></td><td></td><td></td><td></td></tr></tbody></table> <p>01. Dia do Trabalho 08. Dia das Mães 09. Dia da Juventude 16. Dia da Juventude 22. Dia da Juventude 30. Dia da Juventude</p>	D	S	T	Q	Q	S	S	1	2	3	4	5	6	7	8	9	10	11	12	13	14	15	16	17	18	19	20	21	22	23	24	25	26	27	28	29	30	31					<table border="1"><thead><tr><th>D</th><th>S</th><th>T</th><th>Q</th><th>Q</th><th>S</th><th>S</th></tr></thead><tbody><tr><td></td><td></td><td></td><td>1</td><td>2</td><td>3</td><td>4</td></tr><tr><td>5</td><td>6</td><td>7</td><td>8</td><td>9</td><td>10</td><td>11</td></tr><tr><td>12</td><td>13</td><td>14</td><td>15</td><td>16</td><td>17</td><td>18</td></tr><tr><td>19</td><td>20</td><td>21</td><td>22</td><td>23</td><td>24</td><td>25</td></tr><tr><td>26</td><td>27</td><td>28</td><td>29</td><td>30</td><td></td><td></td></tr></tbody></table> <p>12. Dia dos Namorados 16. Corpus Christi 24. São João 02. Dia da Mulher 14. Dia da Juventude 21. Dia da Juventude 28. Dia da Juventude</p>	D	S	T	Q	Q	S	S				1	2	3	4	5	6	7	8	9	10	11	12	13	14	15	16	17	18	19	20	21	22	23	24	25	26	27	28	29	30			<table border="1"><thead><tr><th>D</th><th>S</th><th>T</th><th>Q</th><th>Q</th><th>S</th><th>S</th></tr></thead><tbody><tr><td></td><td></td><td></td><td></td><td></td><td>1</td><td>2</td></tr><tr><td>3</td><td>4</td><td>5</td><td>6</td><td>7</td><td>8</td><td>9</td></tr><tr><td>10</td><td>11</td><td>12</td><td>13</td><td>14</td><td>15</td><td>16</td></tr><tr><td>17</td><td>18</td><td>19</td><td>20</td><td>21</td><td>22</td><td>23</td></tr><tr><td>24</td><td>25</td><td>26</td><td>27</td><td>28</td><td>29</td><td>30</td></tr></tbody></table> <p>02. Dia da Mulher 13. Dia da Juventude 20. Dia da Juventude 28. Dia da Juventude</p>	D	S	T	Q	Q	S	S						1	2	3	4	5	6	7	8	9	10	11	12	13	14	15	16	17	18	19	20	21	22	23	24	25	26	27	28	29	30	<table border="1"><thead><tr><th>D</th><th>S</th><th>T</th><th>Q</th><th>Q</th><th>S</th><th>S</th></tr></thead><tbody><tr><td></td><td></td><td></td><td>1</td><td>2</td><td>3</td><td>4</td></tr><tr><td>5</td><td>6</td><td>7</td><td>8</td><td>9</td><td>10</td><td>11</td></tr><tr><td>12</td><td>13</td><td>14</td><td>15</td><td>16</td><td>17</td><td>18</td></tr><tr><td>19</td><td>20</td><td>21</td><td>22</td><td>23</td><td>24</td><td>25</td></tr><tr><td>26</td><td>27</td><td>28</td><td>29</td><td>30</td><td>31</td><td></td></tr></tbody></table> <p>09. Dia da Mulher 11. Dia da Juventude 12. Dia da Juventude 27. Dia da Juventude</p>	D	S	T	Q	Q	S	S				1	2	3	4	5	6	7	8	9	10	11	12	13	14	15	16	17	18	19	20	21	22	23	24	25	26	27	28	29	30	31															
D	S	T	Q	Q	S	S																																																																																																																																																																																			
1	2	3	4	5	6	7																																																																																																																																																																																			
8	9	10	11	12	13	14																																																																																																																																																																																			
15	16	17	18	19	20	21																																																																																																																																																																																			
22	23	24	25	26	27	28																																																																																																																																																																																			
29	30	31																																																																																																																																																																																							
D	S	T	Q	Q	S	S																																																																																																																																																																																			
			1	2	3	4																																																																																																																																																																																			
5	6	7	8	9	10	11																																																																																																																																																																																			
12	13	14	15	16	17	18																																																																																																																																																																																			
19	20	21	22	23	24	25																																																																																																																																																																																			
26	27	28	29	30																																																																																																																																																																																					
D	S	T	Q	Q	S	S																																																																																																																																																																																			
					1	2																																																																																																																																																																																			
3	4	5	6	7	8	9																																																																																																																																																																																			
10	11	12	13	14	15	16																																																																																																																																																																																			
17	18	19	20	21	22	23																																																																																																																																																																																			
24	25	26	27	28	29	30																																																																																																																																																																																			
D	S	T	Q	Q	S	S																																																																																																																																																																																			
			1	2	3	4																																																																																																																																																																																			
5	6	7	8	9	10	11																																																																																																																																																																																			
12	13	14	15	16	17	18																																																																																																																																																																																			
19	20	21	22	23	24	25																																																																																																																																																																																			
26	27	28	29	30	31																																																																																																																																																																																				
SETEMBRO	OUTUBRO	NOVEMBRO	DEZEMBRO																																																																																																																																																																																						
<table border="1"><thead><tr><th>D</th><th>S</th><th>T</th><th>Q</th><th>Q</th><th>S</th><th>S</th></tr></thead><tbody><tr><td></td><td></td><td></td><td></td><td></td><td>1</td><td>2</td></tr><tr><td>3</td><td>4</td><td>5</td><td>6</td><td>7</td><td>8</td><td>9</td></tr><tr><td>10</td><td>11</td><td>12</td><td>13</td><td>14</td><td>15</td><td>16</td></tr><tr><td>17</td><td>18</td><td>19</td><td>20</td><td>21</td><td>22</td><td>23</td></tr><tr><td>24</td><td>25</td><td>26</td><td>27</td><td>28</td><td>29</td><td>30</td></tr></tbody></table> <p>07. Independência do Brasil 02. Dia da Mulher 10. Dia da Juventude 17. Dia da Juventude 25. Dia da Juventude</p>	D	S	T	Q	Q	S	S						1	2	3	4	5	6	7	8	9	10	11	12	13	14	15	16	17	18	19	20	21	22	23	24	25	26	27	28	29	30	<table border="1"><thead><tr><th>D</th><th>S</th><th>T</th><th>Q</th><th>Q</th><th>S</th><th>S</th></tr></thead><tbody><tr><td></td><td></td><td></td><td></td><td></td><td>1</td><td></td></tr><tr><td>2</td><td>3</td><td>4</td><td>5</td><td>6</td><td>7</td><td>8</td></tr><tr><td>9</td><td>10</td><td>11</td><td>12</td><td>13</td><td>14</td><td>15</td></tr><tr><td>16</td><td>17</td><td>18</td><td>19</td><td>20</td><td>21</td><td>22</td></tr><tr><td>23</td><td>24</td><td>25</td><td>26</td><td>27</td><td>28</td><td>29</td></tr><tr><td>30</td><td>31</td><td></td><td></td><td></td><td></td><td></td></tr></tbody></table> <p>12. N. Sra. Aparecida 12. Dia das Crianças 02. Dia da Mulher 09. Dia da Juventude 17. Dia da Juventude 25. Dia da Juventude</p>	D	S	T	Q	Q	S	S						1		2	3	4	5	6	7	8	9	10	11	12	13	14	15	16	17	18	19	20	21	22	23	24	25	26	27	28	29	30	31						<table border="1"><thead><tr><th>D</th><th>S</th><th>T</th><th>Q</th><th>Q</th><th>S</th><th>S</th></tr></thead><tbody><tr><td></td><td></td><td></td><td>1</td><td>2</td><td>3</td><td>4</td></tr><tr><td>5</td><td>6</td><td>7</td><td>8</td><td>9</td><td>10</td><td>11</td></tr><tr><td>12</td><td>13</td><td>14</td><td>15</td><td>16</td><td>17</td><td>18</td></tr><tr><td>19</td><td>20</td><td>21</td><td>22</td><td>23</td><td>24</td><td>25</td></tr><tr><td>26</td><td>27</td><td>28</td><td>29</td><td>30</td><td></td><td></td></tr></tbody></table> <p>02. Finados 15. Proclamação da República 02. Dia da Mulher 09. Dia da Juventude 16. Dia da Juventude 23. Dia da Juventude 29. Dia da Juventude</p>	D	S	T	Q	Q	S	S				1	2	3	4	5	6	7	8	9	10	11	12	13	14	15	16	17	18	19	20	21	22	23	24	25	26	27	28	29	30			<table border="1"><thead><tr><th>D</th><th>S</th><th>T</th><th>Q</th><th>Q</th><th>S</th><th>S</th></tr></thead><tbody><tr><td></td><td></td><td></td><td></td><td></td><td>1</td><td>2</td></tr><tr><td>3</td><td>4</td><td>5</td><td>6</td><td>7</td><td>8</td><td>9</td></tr><tr><td>10</td><td>11</td><td>12</td><td>13</td><td>14</td><td>15</td><td>16</td></tr><tr><td>17</td><td>18</td><td>19</td><td>20</td><td>21</td><td>22</td><td>23</td></tr><tr><td>24</td><td>25</td><td>26</td><td>27</td><td>28</td><td>29</td><td>30</td></tr><tr><td>31</td><td></td><td></td><td></td><td></td><td></td><td></td></tr></tbody></table> <p>25. Natal 02. Dia da Mulher 09. Dia da Juventude 16. Dia da Juventude 23. Dia da Juventude 30. Dia da Juventude</p>	D	S	T	Q	Q	S	S						1	2	3	4	5	6	7	8	9	10	11	12	13	14	15	16	17	18	19	20	21	22	23	24	25	26	27	28	29	30	31						
D	S	T	Q	Q	S	S																																																																																																																																																																																			
					1	2																																																																																																																																																																																			
3	4	5	6	7	8	9																																																																																																																																																																																			
10	11	12	13	14	15	16																																																																																																																																																																																			
17	18	19	20	21	22	23																																																																																																																																																																																			
24	25	26	27	28	29	30																																																																																																																																																																																			
D	S	T	Q	Q	S	S																																																																																																																																																																																			
					1																																																																																																																																																																																				
2	3	4	5	6	7	8																																																																																																																																																																																			
9	10	11	12	13	14	15																																																																																																																																																																																			
16	17	18	19	20	21	22																																																																																																																																																																																			
23	24	25	26	27	28	29																																																																																																																																																																																			
30	31																																																																																																																																																																																								
D	S	T	Q	Q	S	S																																																																																																																																																																																			
			1	2	3	4																																																																																																																																																																																			
5	6	7	8	9	10	11																																																																																																																																																																																			
12	13	14	15	16	17	18																																																																																																																																																																																			
19	20	21	22	23	24	25																																																																																																																																																																																			
26	27	28	29	30																																																																																																																																																																																					
D	S	T	Q	Q	S	S																																																																																																																																																																																			
					1	2																																																																																																																																																																																			
3	4	5	6	7	8	9																																																																																																																																																																																			
10	11	12	13	14	15	16																																																																																																																																																																																			
17	18	19	20	21	22	23																																																																																																																																																																																			
24	25	26	27	28	29	30																																																																																																																																																																																			
31																																																																																																																																																																																									



**ATIVIDADE:**

1- COMPLETE AS LACUNAS COM AS PALAVRAS:

**UM MINUTO**

**UMA HORA**

**UM DIA**

- a) EM \_\_\_\_\_ MARCOS LEVANTA, TOMA CAFÉ, BRINCA, FAZ A LIÇÃO, JANTA E DORME.
- b) MARINA ESPEROU \_\_\_\_\_ PARA SER ATENDIDA NO DENTISTA.
- c) HOJE LAVEI O ROSTO EM \_\_\_\_\_.

2-AGORA QUE VOCÊ JÁ SABE COMO DIVIDIMOS O TEMPO, ENCONTRE AS PALAVRAS QUE CORRESPONDEM A ESSA DIVISÃO.

B	C	A	X	F	E	E	W	I	J
S	E	G	U	N	D	O	W	U	L
O	P	M	R	N	T	A	Q	K	V
X	M	I	N	U	T	O	Z	Y	X
A	B	Y	D	H	A	G	H	L	J
D	I	A	Q	U	H	O	R	A	V
K	L	M	A	O	P	Q	E	S	W
V	U	A	N	O	A	Y	Z	A	B
C	W	E	D	F	M	É	S	F	S

3- PINTE NO CALENDÁRIO ACIMA O DIA E O MÊS DO SEU ANIVESÁRIO.

# MATEMÁTICA

## VALOR POSICIONAL

1- COMPLETE COM O VALOR E ESCREVA COMO SE LÊ:

A)



DEZENA	UNIDADE
4	3

ESCRITA:

QUARENTA E TRÊS

B)



DEZENA	UNIDADE

ESCRITA:

C)



DEZENA	UNIDADE

ESCRITA:

D)



DEZENA	UNIDADE

ESCRITA:

ESCOLA MUNICIPAL MARIA DO CARMO CAMPOS.  
ROLÂNDIA, 21 DE SETEMBRO DE 2021.  
PROFESSORA: \_\_\_\_\_

## AULAS ESPECÍFICAS

### ARTE

PROFESSORAS: MARIA DE LOURDES E LUCIANA  
COMPONENTE CURRICULAR: ARTE  
PERÍODO DE REALIZAÇÃO: 20 À 24 DE SETEMBRO  
ALUNO(A):.....  
..... TURMA: 2º ANO

#### CELEBRANDO A CULTURA BRASILEIRA

GUSTAVO ROSA E AS FORMAS GEOMÉTRICAS

#### RECRIANDO A OBRA

AGORA É SUA VEZ DE FAZER SEU PRÓPRIO GATO.  
VOCÊ PRECISARÁ DE FOLHAS, CANETINHAS, GIZ DE  
CERA OU LÁPIS DE COR, TESOURA E COLA.

FAÇA 4 RETÂNGULOS DO MESMO TAMANHO E DOIS  
TRIÂNGULOS PARA MONTAR SEU GATO. RECORTE E COLE. DEPOIS DESENHE A  
CARINHA DO SEU GATO.



# EDUCAÇÃO FÍSICA

**PROFESSORA: ANDRÉIA / EMANUELLE**

**COMPONENTE CURRICULAR: EDUCAÇÃO FÍSICA (28º).**

**PERÍODO DE REALIZAÇÃO: 20 DE 24 DE SETEMBRO DE 2021.**

**UNIDADE TEMÁTICA: JOGOS ESPORTIVOS DE MARCA (ATLETISMO)**

**OBJETO DE CONHECIMENTO: JOGOS ESPORTIVOS DE MARCA**


**CONTEÚDO: CIRCUITO DE CORRIDA**

**O QUE VAMOS APRENDER: JOGOS ESPORTIVOS DE MARCA (ATLETISMO)**

**PARA QUE VAMOS ESTUDAR ESSES CONTEÚDOS:**

EXPERIMENTAR A PRÁTICA DE JOGOS ESPORTIVOS DE MARCA, POR MEIO DE ATIVIDADES E JOGOS DIVERSIFICADOS, ADEQUADOS À REALIDADE ESCOLAR E QUE EVIDENCIEM A MODALIDADE ESPORTIVA ENSINADA.

**COMO VAMOS ESTUDAR ESSES CONTEÚDOS?** ATRAVÉS DA PRÁTICA DA MODALIDADE DO ATLETISMO CORRIDA.



COMO VIMOS NA AULA ANTERIOR ATLETISMO É UM CONJUNTO DE PROVAS INDIVIDUAIS OU COLETIVAS. NA AULA DE HOJE DAREMOS CONTINUIDADE NA MODALIDADE CORRER.

**ATIVIDADE -CORRIDA**

**MATERIAS:** 5 GARRAFAS PET OU BRINQUEDOS (DE PREFERÊNCIA QUE NÃO SAIAM DO LUGAR) OU SAPATOS. CONVIDE ALGUM DE SEUS FAMILIARES PARA PARTICIPAR.

**ATIVIDADES PRATICAS**






ESCOLHA UM (ESPAÇO) DA SUA CASA PARA ESSA ATIVIDADE E POSICIONE OS OBJETOS AO LONGO DELE DA SEGUINTE FORMA VAMOS DEMARCAR DE UM LADO E DO OUTRO PODE FITA OU BABANTE SER COM ESCOLHIDO O CABO DE VASSORA DA MAMAE ESTICADO NO CHÃO.

- 1- CORRIDA PARA FRENTE E PARA TRAS SOBRE O CABO OU A FITA IDA E VOLTA.
- 2- CORRIDA LATERAL COLOCA A MAO DO OBEJTO DE UM LADO PARA E OUTRO CONTANDO ATÉ DEZ.
- 3- CORRIDA DE ZIQUE ZAQUE ENTRE OS OBJETO GARRAFAS OU CHINELO OU SAPATOS QUE VC TEM AI EM CASA.
- 4\_ CORRIDA COM O JOELHOS ESTENDIDOS.
- 5\_ CORRIDA SALTANDO SOBRE OS OBJETOS
- 6\_ CORRIDA DO GICANTE SOBRE OS OBSTACULOS

AO SINAL DE SEU FAMILIAR, SAIA DO PONTO DE PARTIDA E VÁ RECOLHENDO OS OBJETOS DURANTE O TRAJETO ATÉ A LINHA DE CHEGADA.

**VARIAÇÕES:** PEÇA PARA QUE MARQUEM O SEU TEMPO E TENDE FAZER AINDA MAIS RÁPIDO, CONVIDE ALGUÉM PARA DISPUTAR ESSA CORRIDA COM VOCÊ.

4. DE QUE FORMA VAMOS REGISTRAR O QUE APRENDEMOS? ABAIXO TEMOS UM PEQUENO JOGO DA MEMÓRIA. VOCÊ DEVERA PINTAR E RECORTAR, AO BRINCAR, NO VIRAR A FIGURA, VERBALIZE QUAL PRÁTICA DO ATLETISMO A FIGURA CORRESPONDE, SALTO EM ALTURA, SALTO EM DISTÂNCIA, LANÇAMENTO DE DARDO E CORRIDA.



# LÍNGUA INGLESA

ALUNO(A): \_\_\_\_\_  
ANO \_\_\_\_\_

TURMA: 2º

COMPONENTE CURRICULAR: LÍNGUA INGLESA

PERÍODO DE REALIZAÇÃO: 20 À 24 DE SETEMBRO DE 2021.

## 2. VÍDEO/ÁUDIO DO(A) PROFESSOR(A)

OLÁ QUERIDO(A) ALUNO(A)!

OUÇA O ÁUDIO/VÍDEO DO(A) PROFESSOR(A) PARA ENTENDER COMO REALIZAR A ATIVIDADE.

## 2. O QUE VOCÊ VAI ESTUDAR?

**OBJETOS DE CONHECIMENTO** – AQUISIÇÃO DO REPERTÓRIO LEXICAL INICIAL.

**UNIDADE TEMÁTICA / PRÁTICA DE LINGUAGEM** – INTERAÇÃO DISCURSIVA.

**CONTEÚDO** – REPERTÓRIO LEXICAL RELACIONADO A DIÁLOGO DE CUMPRIMENTO ( GREETINGS ).

## 3. PARA QUE VAMOS ESTUDAR ESSES CONTEÚDOS?

**OBJETIVOS DE APRENDIZAGEM**

- CONHECER E COMPREENDER COM A MEDIAÇÃO DO(A) PROFESSOR(A) AS DETERMINADAS ESTRUTURAS QUE RELACIONAM À ALGUNS CUMPRIMENTOS NA LÍNGUA INGLESA.

## 4. COMO VAMOS ESTUDAR OS CONTEÚDOS?

-ASSISTA AOS VÍDEOS DE SUGESTÃO:

<https://www.youtube.com/watch?v=DGvhHCn72E0>

[https://www.youtube.com/watch?v=THWdG7oc\\_zM](https://www.youtube.com/watch?v=THWdG7oc_zM)

-REPITA E LEIA O VOVABULÁRIO JUNTO COM A PROFESSORA E REALIZE A ATIVIDADE PROPOSTA.

## 5. COMO VAMOS REGISTRAR O QUE APRENDEMOS?

-ESCREVA SEU NOME, A TURMA E A DATA NOS ESPAÇOS QUE SE PEDE COM CAPRICHOS.

-FAZER A ATIVIDADE DE ENCONTRAR AS PALAVRAS NO CAÇA PALAVRAS EM INGLÊS.

## 6. PARA REALIZAR ESSA ATIVIDADE VOCÊ PRECISARÁ DE ALGUNS MATERIAIS:

-ESTOJO ESCOLAR CONTENDO LÁPIS, LÁPIS DE COR E BORRACHA.

### • VOCABULARY: (VOCABULÁRIO)

HELLO!	OLÁ!	HI!	OI!
GOOD MORNING!	BOM DIA!	GOOD EVENING!	BOA NOITE!
GOOD AFTERNOON!	BOA TARDE!	GOOD NIGHT!	BOA NOITE!
GOOD BYE!	TCHAU! /ADEUS!	BYE BYE!	TCHAU! /ATÉ LOGO!



EXERCISE

➤ ENCONTRE AS PALAVRAS:

**FIND THE WORDS: GOOD MORNING - GOOD AFTERNOON - GOOD EVENING - GOOD NIGHT - GOODBYE - HELLO - BYE BYE**

C	K	F	J	D	H	B	M	L	J	G	G	Y	T
M	Q	C	B	Q	S	A	A	L	S	O	E	B	W
W	R	M	O	D	W	O	P	A	O	O	R	A	G
Q	B	H	G	O	O	D	B	Y	E	D	X	L	P
I	J	P	Z	W	Y	A	H	S	N	N	D	P	P
I	X	M	S	T	I	I	N	D	X	I	D	W	G
A	L	T	T	P	F	P	A	U	P	G	I	I	L
H	G	B	Y	E	B	Y	E	B	S	H	O	Y	S
W	K	I	T	E	V	S	G	H	Y	T	Y	J	S
C	P	S	G	O	O	D	M	O	R	N	I	N	G
W	C	B	D	Y	H	I	P	M	P	S	J	N	A
G	O	O	D	A	F	T	E	R	N	O	O	N	P
O	G	Y	E	S	H	E	L	L	O	Q	O	G	Q
G	O	O	D	E	V	E	N	I	N	G	V	S	O

ESCOLA MUNICIPAL MARIA DO CARMO CAMPOS.

ROLÂNDIA, 22 DE SETEMBRO DE 2021.

PROFESSORA: \_\_\_\_\_

ALUNO (A): \_\_\_\_\_

## LÍNGUA PORTUGUESA

GÊNERO TEXTUAL ANÚNCIO: LEITURA E COMPREENSÃO, PRODUÇÃO DE PALAVRAS E FRASES.

### LEITURA

# LEILÃO DE JARDIM

CECÍLIA MEIRELES

QUEM ME COMPRA UM JARDIM COM FLORES?  
BORBOLETAS DE MUITAS CORES,...  
LAVADEIRAS E PASSARINHOS,  
OVOS VERDES E AZUIS NOS NINHOS?

QUEM ME COMPRA ESTE CARACOL?  
QUEM ME COMPRA UM RAIO DE SOL?  
UM LAGARTO ENTRE O MURO E A HERA,  
UMA ESTÁTUA DA PRIMAVERA?

QUEM ME COMPRA ESTE FORMIGUEIRO?  
E ESTE SAPO, QUE É JARDINEIRO?  
A CIGARRA E A SUA CANÇÃO?  
E O GRILINHO DENTRO DO CHÃO?  
(ESTE É O MEU LEILÃO).



### 1- COMPREENDENDO O TEXTO

A) CIRCULE O TÍTULO DO POEMA E PINTE O NOME DA AUTORA

B) O QUE SIGNIFICA LEILÃO:

- ( ) EVENTO EM QUE SÃO VENDIDOS OBJETOS
- ( ) LUGAR ONDE É CONFECCIONADO OBJETOS
- ( ) JARDIM COM MUITOS INSETOS

C) COPIE DO POEMA O NOME DOS BICHINHOS QUE APARECEM.

---

---

---

---

---

D) COPIE DO TEXTO:

UMA PALAVRA COM SS: \_\_\_\_\_

2 PALAVRAS COM NH: \_\_\_\_\_

2 PALAVRAS ESCRITAS COM L COM SOM DE U: \_\_\_\_\_

1 PALAVRA COM CH: \_\_\_\_\_

1 PALAVRA COM RR: \_\_\_\_\_

1 PALAVRA COM M ANTES DE P: \_\_\_\_\_ .

**2) LIGUE AS PALAVRAS QUE RIMAM.**

FLORES  
PASSARINHOS  
CARACOL  
HERA  
FORMIGUEIRO  
CANÇÃO

JARDINEIRO  
CHÃO  
PRIMAVERA  
SOL  
CORES  
NINHOS

**3- FAÇA LETURA DAS PALAVRAS E AS ENCONTRE NO CAÇA-PALAVRAS:**

**CAÇA PALAVRAS**

CHÃO	CARACOL
LEILÃO	JARDIM
CIGARRA	SOL
PRIMAVERA	NINHO
BORBOLETA	LAVADEIRA
HERA	FLORES



B	O	R	B	O	L	E	T	A	C
A	S	J	A	R	D	I	M	P	A
T	O	C	H	Ã	O	H	N	Ç	R
E	L	A	V	A	D	E	I	R	A
L	E	I	L	Ã	O	R	N	M	C
C	I	G	A	R	R	A	H	Q	O
O	F	L	O	R	E	S	O	B	L
P	R	I	M	A	V	E	R	A	W

**4) ORGANIZE AS SÍLABAS E FORME PALAVRAS.**

A- 

TA	BO	LE	BOR
----	----	----	-----

\_\_\_\_\_

B- 

RES	FLO
-----	-----

\_\_\_\_\_

C- 

RA	CA	COL
----	----	-----

\_\_\_\_\_

D- 

MI	GUEI	FOR	RO
----	------	-----	----

\_\_\_\_\_



ESCOLA MUNICIPAL MARIA DO CARMO CAMPOS.

ROLÂNDIA, 23 DE SETEMBRO DE 2021.

PROFESSORA: \_\_\_\_\_

ALUNO (A): \_\_\_\_\_

### LÍNGUA PORTUGUESA

- LEITURA E COMPREENSÃO DE PALAVRAS, FRASES E TEXTO. PRODUÇÃO DE PALAVRAS E FRASES. RIMAS.




### A PULGA OLGA

A pulga Olga saiu  
Do cachorro pintado.  
Pulou, pulou e chegou  
Até o gato espantado.

Sentiu cheiro de pipoca  
E saiu na correria.  
Pula daqui, pula dali,  
Caiu logo na água fria.

*Graça Batituci*



- 1) Pinte as faixas que contêm as frases que estão de acordo com o poema.

A pulga Olga saiu do cachorro preto.

A pulga sentiu cheiro de pipoca.

A pulga caiu na água quente.

A pulga pulou e chegou até o gato espantado.

- 2) CIRCULE AS ESTROFES COM CORES DIFERENTES E CONTE OS VERSOS E REGISTRE:

\_\_\_\_\_

- 3) PENSE E ESCREVA 3 PALAVRAS QUE RIMAM COM:


PINTADO: \_\_\_\_\_, \_\_\_\_\_, \_\_\_\_\_

CORRERIA: \_\_\_\_\_, \_\_\_\_\_, \_\_\_\_\_

- 4) LEIA E DESENHE OS ANIMAIS.

POMBINHA	GAMBÁ	OVELHA	PORCO

5) RESOLVA A CRUZADINHA DOS ANIMAIS.



6) ESCOLHA 6 NOMES E SEPARE EM SÍLABAS.


7) ESCREVA O QUE VOCÊ SABE SOBRE O BICHINHO AO LADO.




---



---



---



---



---



---



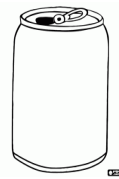
## CIÊNCIAS

### ✓ MATERIAIS QUE COMPÕEM OS OBJETOS DA VIDA COTIDIANA.


VOCÊ JÁ NOTOU A VARIEDADE DE OBJETOS QUE EXISTEM AO NOSSO REDOR?

NO DIA A DIA, USAMOS OBJETOS QUE SÃO FEITOS DE DIFERENTES MATERIAIS COMO:

**BORRACHA    TECIDO    MADEIRA    PLÁSTICO    METAL    VIDRO    PAPEL**



CADA MATERIAL POSSUI SUA CARACTERÍSTICA, ELE PODE SER: DURO, MALEÁVEL, TRANSPARENTE OU OPACO.

PODEMOS PERCEBER VÁRIOS TIPOS DE MATERIAIS EM UM SÓ OBJETO, COMO POR EXEMPLO, UMA TESOURA  QUE É DE METAL COM O CABO DE PLÁSTICO:

### ATIVIDADE:

1-ESCREVA O NOME DE DOIS OBJETOS QUE VOCÊ USA NO SEU DIA A DIA, QUE FORAM FEITOS COM CADA MATERIAL ABAIXO:

a) PAPEL: \_\_\_\_\_

b) METAL: \_\_\_\_\_

c) VIDRO: \_\_\_\_\_

d) PLÁSTICO: \_\_\_\_\_

e) BORRACHA: \_\_\_\_\_

f) MADEIRA: \_\_\_\_\_

g) TECIDO: \_\_\_\_\_

ROLÂNDIA, 24 DE SETEMBRO DE 2021

PROFESSORA: \_\_\_\_\_

ALUNO (A): \_\_\_\_\_

## LÍNGUA PORTUGUESA

LEITURA E ESCRITA DE PALAVRAS E FRASES, ORTOGRAFIA: M ANTES DE P E B.

**M antes de P e B**

Ligue e escreva as palavras:

RA	BO	_____
SA	BA	_____
U	BIGO	_____
TA	BOR	_____
SO	BRA	_____
BO	BOM	_____
CA	BOTA	_____
GA	BÁ	_____
JA	BO	_____
PO	BA	_____

2) ORGANIZE AS PALAVRAS EM ORDEM ALFABÉTICA.

BOMBA	SEMPRE	TAMPA	CAMPO	AMBULÂNCIA
-------	--------	-------	-------	------------

\_\_\_\_\_

\_\_\_\_\_

\_\_\_\_\_

3) COMPLETE AS PALAVRAS ABAIXO COM A LETRA M:

BA\_\_\_BU

E\_\_\_BAIXO

E\_\_\_PADA

TA\_\_\_PA

LO\_\_\_BO

LI\_\_\_PEZA

SA\_\_\_BA

SO\_\_\_BRINHA

CO\_\_\_PLETO

BOM\_\_\_BRIL

CO\_\_\_PLETAR

E\_\_\_BORA

PO\_\_\_BINHA

TO\_\_\_BO

CA\_\_\_PO

BOM\_\_\_BEIRO

E\_\_\_PRESTAR

LA\_\_\_BADA

I\_\_\_PORTANTE

RA\_\_\_PA

SE\_\_\_PRE

U\_\_\_BIGO

# MATEMÁTICA

## MEDIDA DE TEMPO: DIA, MÊS E ANO.

# ANO 2021

JANEIRO						
D	S	T	Q	Q	S	S
					1	2
3	4	5	6	7	8	9
10	11	12	13	14	15	16
17	18	19	20	21	22	23
24	25	26	27	28	29	30
31	6 - MING.	13 - NOVA	20 - CRESC.	27 - CHEIA		

FEVEREIRO						
D	S	T	Q	Q	S	S
1	2	3	4	5	6	
7	8	9	10	11	12	13
14	15	16	17	18	19	20
21	22	23	24	25	26	27
28						19 - CARNAVAL
	4 - MING.	11 - NOVA	18 - CRESC.	25 - CHEIA		

MARÇO						
D	S	T	Q	Q	S	S
1	2	3	4	5	6	
7	8	9	10	11	12	13
14	15	16	17	18	19	20
21	22	23	24	25	26	27
28	29	30	31	8 - DIA DA MULHER	20 - INÍCIO DO OUTONO	
	5 - MING.	12 - NOVA	19 - CRESC.	26 - CHEIA		

ABRIL						
D	S	T	Q	Q	S	S
					1	2
3	4	5	6	7	8	9
10	11	12	13	14	15	16
17	18	19	20	21	22	23
24	25	26	27	28	29	30
	4 - MING.	11 - NOVA	18 - CRESC.	25 - CHEIA		22 - E. DO BRASIL

MAIO						
D	S	T	Q	Q	S	S
					1	
2	3	4	5	6	7	8
9	10	11	12	13	14	15
16	17	18	19	20	21	22
23	24	25	26	27	28	29
30	31	3 - MING.	10 - NOVA	17 - CRESC.	24 - CHEIA	

JUNHO						
D	S	T	Q	Q	S	S
1	2	3	4	5		
6	7	8	9	10	11	12
13	14	15	16	17	18	19
20	21	22	23	24	25	26
27	28	29	30	12 - DIA DOS AMORADOS	21 - INÍCIO DO INVERNO	
	2 - MING.	9 - NOVA	16 - CRESC.	23 - CHEIA		

JULHO						
D	S	T	Q	Q	S	S
					1	2
3	4	5	6	7	8	9
10	11	12	13	14	15	16
17	18	19	20	21	22	23
24	25	26	27	28	29	30
31	1 - MING.	8 - NOVA	15 - CRESC.	22 - CHEIA	29 - MING.	

AGOSTO						
D	S	T	Q	Q	S	S
1	2	3	4	5	6	7
8	9	10	11	12	13	14
15	16	17	18	19	20	21
22	23	24	25	26	27	28
29	30	31	8 - DIA DOS PAIS			
	5 - NOVA	12 - CRESC.	19 - CHEIA	26 - MING.		

SETEMBRO						
D	S	T	Q	Q	S	S
					1	2
3	4	5	6	7	8	9
10	11	12	13	14	15	16
17	18	19	20	21	22	23
24	25	26	27	28	29	30
						22 - INÍCIO DA PRIMAVERA
	6 - NOVA	13 - CRESC.	20 - CHEIA	27 - MING.		

OUTUBRO						
D	S	T	Q	Q	S	S
					1	2
3	4	5	6	7	8	9
10	11	12	13	14	15	16
17	18	19	20	21	22	23
24	25	26	27	28	29	30
31	6 - NOVA	13 - CRESC.	20 - CHEIA	27 - MING.		

NOVEMBRO						
D	S	T	Q	Q	S	S
					1	2
3	4	5	6	7	8	9
10	11	12	13	14	15	16
17	18	19	20	21	22	23
24	25	26	27	28	29	30
						3 - FRIASGÃ
						19 - PROC. DA REPÚBLICA
						20 - CONJUNÇÃO NEGRA
	4 - NOVA	11 - CRESC.	18 - CHEIA	25 - MING.		

DEZEMBRO						
D	S	T	Q	Q	S	S
					1	2
3	4	5	6	7	8	9
10	11	12	13	14	15	16
17	18	19	20	21	22	23
24	25	26	27	28	29	30
31	4 - NOVA	11 - CRESC.	18 - CHEIA	25 - MING.		

# MESES DO ANO

LEIA O O RETÂNGULO COM OS MESES DO ANO:

JANEIRO – FEVEREIRO – MARÇO - ABRIL –  
MAIO – JUNHO – JULHO – AGOSTO – SETEMBRO  
– OUTUBRO – NOVEMBRO – DEZEMBRO



O ANO TEM \_\_\_\_\_ MESES.

O ANO COMEÇA COM O MÊS DE \_\_\_\_\_.

\_\_\_\_\_ É O ÚLTIMO MÊS DO ANO.

QUAIS OS MESES QUE COMEÇAM COM A LETRA J?

\_\_\_\_\_

QUAIS OS MESES QUE COMEÇAM COM A LETRA M?

\_\_\_\_\_

QUAL É O MÊS DO SEU ANIVERSÁRIO?

\_\_\_\_\_

EM QUE MÊS ESTAMOS?

\_\_\_\_\_

QUAIS OS MESES QUE COMEÇAM COM A PRIMEIRA LETRA DO ALFABETO?

\_\_\_\_\_

QUANTOS MESES FALTAM PARA CHEGAR AO ÚLTIMO MÊS DO ANO?

\_\_\_\_\_

## ENSINO RELIGIOSO

### LINGUAGENS SAGRADAS

A TERRA PARA OS ÍNDIOS É O ESPAÇO DE VIDA,  
LUGAR PARA VIVER E VIVER BEM.



OS ÍNDIOS NÃO VEEM A TERRA COMO ALGO A SER  
EXPLORADO E POLUÍDO, MAS SIM COMO UM ESPAÇO A SER RESPEITADO  
PARA VIVER.

POR ISSO COSTUMAM CHAMÁ-LA DE "MÃE TERRA".

1- PINTE E RECORTE OS ELEMENTOS DA NATUREZA QUE ESTÃO NO FINAL DA FOLHA.  
DEPOIS COLE-OS NA IMAGEM QUE REPRESENTA A "MÃE TERRA".

